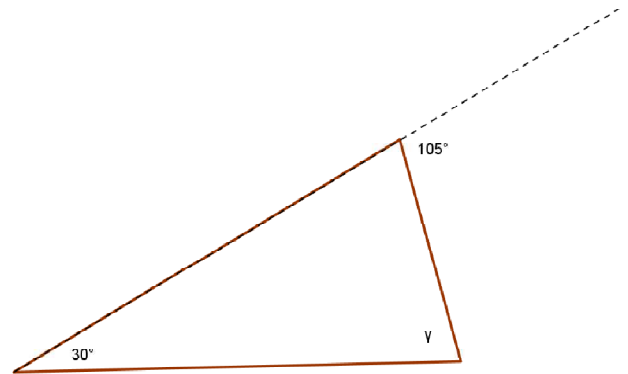
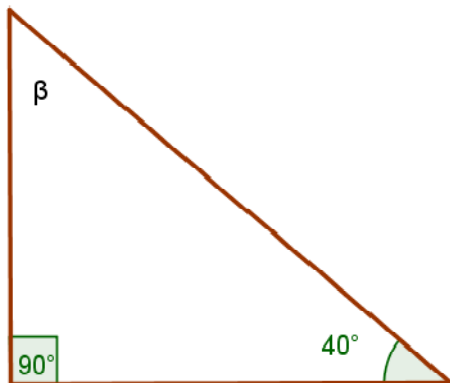


# Zadania dla klas 5

## Figury geometryczne

Zadanie 1 Oblicz miary kątów  $\alpha$ ,  $\beta$ ,  $\gamma$ .



Zadanie 2 Czy z podanych odcinków można zbudować trójkąt?

- a) 7cm, 4cm, 3cm    b) 8m, 8m, 5 cm    c) 1dm, 9cm, 10mm


Zadanie 3 Oblicz obwód kwadratu o boku:

- a) 25m    b) 7,5cm    c) 4,5dm    d) 105mm

Zadanie 4 Narysuj dowolny równoległobok o przekątnych 4cm i 6cm.

Zadanie 5 Narysuj romb o przekątnych 3cm i 6cm.

**Zadanie 6** Oblicz obwód równoległoboku ABCD



**Zadanie 7** Jeden z kątów ostrych równoległoboku ma miarę  $38^\circ$ . Jakie miary mają pozostałe kąty tego równoległoboku?

**Zadanie 8** Które zdanie jest prawdziwe

- A. Każdy trapez jest równoległobokiem.
- B. Każdy równoległobok jest rombem.
- C. Każdy romb jest kwadratem.
- D. Każdy kwadrat jest prostokątem.

**Zadanie 9** O jaki kąt wskazówka minutowa obraca się od  $12^{00}$  do  $12^{45}$ ?